





10 questions d'orientation série 2021_01

1.	Où se trouve l'est sur la carte?	A	à gauche de la carte
		B	à droite de la carte
		C	en haut de la carte
		D	en bas de la carte
2.	A quel azimut se trouve le sud-ouest?	A	45°
		B	135°
		C	225°
		D	315°
3.	Où se trouve le point qui sert de base à la mesure de l'altitude en Suisse?	A	à Zurich
		B	à Bâle
		C	à Berne
		D	à Genève
4.	Que signifie l'abréviation GPS?	A	Geographical Pointing Solution
		B	Geodata Printing System
		C	Global Positioning System
		D	General Placing Software
5.	A quoi correspondent 2km de distance réelle sur une carte au 1:25'000?	A	10 cm
		B	8 cm
		C	4 cm
		D	2 cm
6.	Comment nomme-t-on le réseau de coordonnées Suisse actuellement en vigueur?	A	Swissgrid
		B	LV95
		C	CH-Net
		D	Swisstopo

7.-10. Signes conventionnels des nouvelles cartes nationales 1:25'000

réponses possibles A: Vignes B: Stand de tir C: Limite de commune D: Ligne électrique à haute tension E: Colline F: Tunnel ferroviaire G: Gravière H: Téléphérique I: Téléski J: Verger	Inscrivez la lettre de la réponse correspondante.	
	7.	 <input type="checkbox"/>
	8.	 <input type="checkbox"/>
	9.	 <input type="checkbox"/>
	10.	 <input type="checkbox"/>

Reportez ici les 10 lettres correspondant à vos réponses (dans l'ordre)	1	2	3	4	5	6	7	8	9	10
	<input type="text"/>	<input type="text"/>	<input type="text"/>	<input type="text"/>	<input type="text"/>	<input type="text"/>	<input type="text"/>	<input type="text"/>	<input type="text"/>	<input type="text"/>