





## 10 Domande di topografia 2022-01

1.	Dove si trova l'est sulla mappa	A	Bordo sinistro della mappa
		B	Bordo destro della mappa
		C	Bordo superiore della mappa
		D	Margine inferiore della mappa
2.	A quale azimut è il sud-ovest?	A	45°
		B	135°
		C	225°
		D	315°
3.	Dove si trova il punto che serve come base per la misurazione dell'altitudine in svizzera?	A	Zurigo
		B	Basilea
		C	Berna
		D	Ginevra
4.	Cosa significa l'abbreviazione GPS?	A	Soluzione di puntamento geografico
		B	Sistema di stampa di geodati
		C	Sistema di posizionamento globale
		D	Software di piazzamento generale
5.	2 Km corrispondono sulla mappa 1:25000 che lunghezza?	A	10 cm
		B	8 cm
		C	4 cm
		D	2 cm
6.	Qual è il nome del rete di coordinate attualmente valida in Svizzera?	A	Swissgrid
		B	MN95
		C	CH-Net
		D	Swisstopo

## 7.-10. Simboli della nuova carta nazionale 1:25'000

Risposte possibili A: Vigneto B: Poligono di tiro C: Confine comunale D: Linea di alta tensione E: Collina F: Tunnel ferroviario G: Cava di ghiaia H: Funivia I: Sciovia J: Vivaio	7.		<input type="checkbox"/>
	8.		<input type="checkbox"/>
	9.		<input type="checkbox"/>
	10.		<input type="checkbox"/>

Scrivere le soluzioni 1-10 in questa tabella::	1	2	3	4	5	6	7	8	9	10