





10 Domande di topografia 2022-02

1.	Dove si trova l'Ovest sulla mappa	A	Bordo sinistro della mappa
		B	Bordo destro della mappa
		C	Bordo superiore della mappa
		D	Margine inferiore della mappa
2.	A quale Azimut si trova Sud-Est	A	45°
		B	135°
		C	225°
		D	315°
3.	Dove si trova la coordinate 2'600'000 / 1'200'000	A	Zurigo
		B	Basilea
		C	Berna
		D	Ginevra
4.	Cosa significa il termine Equidistanza	A	Differenza di altitudine tra due curve di livello
		B	Differenza tra due linee
		C	Distanza tra le linee di coordinata
		D	Lunghezza di un fiume
5.	4mm sulla mappa 1:25'000 Corrispondono in realtà a quale distanza?	A	1 m
		B	10 m
		C	100 m
		D	1'000 m
6.	A seconda delle condizioni del terreno Le curve di elevazione hanno i seguenti colori.	A	Verde / nero / marrone
		B	Blu / verde / nero
		C	Marrone / blu / nero
		D	Marrone / nero / giallo

7.-10. Simboli della nuova carta nazionale 1:25'000

Risposte possibili A: Foresta aperta B: Poligono di tiro C: Confine comunale D: Linea di alta tensione E: Collina F: Tunnel ferroviario G: Depressione H: Funivia I: Sciovia J: Vivaio	7.		<input type="checkbox"/>
	8.		<input type="checkbox"/>
	9.		<input type="checkbox"/>
	10.		<input type="checkbox"/>

Scrivere le soluzioni 1-10 in questa tabella:	1	2	3	4	5	6	7	8	9	10