



Name:

10 questions d'orientation

série 2021_05

1.	Où se trouve l'ouest sur la carte?	A	à gauche de la carte
		B	en haut de la carte
		C	à droite de la carte
		D	en bas de la carte

2.	A quelle direction correspond l'azimut de 135°?	A	nord-est
		B	sud-est
		C	sud-ouest
		D	nord-ouest





3.	Lesquelles de ces coordonnées ne se situent PAS en Suisse?	A	720 500 / 080 200
		B	500 005 / 150 051
		C	256 460 / 538 700
		D	833 638 / 167 067

4.	Le point de référence pour la mesure de l'altitude se trouve à Genève. Quel est son nom?	A	Repère Pierre du Niton
		B	Le Père Pierre de Nyon
		C	La Pierre Père de Nitro
		D	Le rocher de l'altitude

5.	25 cm sur la carte 1:25'000 correspondent en réalité à quelle distance ?	A	10 km
		B	6.25 km
		C	1 km
		D	0.625 km

6.	Comment les arrêts de car postal sont-ils indiqués sur la carte au 1:25 000 ?	A	point noir
		B	triangle rouge
		C	cercle jaune
		D	ils ne sont pas indiqués

7.-10. Signes conventionnels des nouvelles cartes nationales 1:25'000

réponses possibles A: Place de camping B: Antenne émettrice C: Pyramide de triangulation D: Station électrique E: Monument F: Hôpital G: Château d'eau H: Hélicoptère I: Fontaine J: Clocher	Inscrivez la lettre de la réponse correspondante.	
	7.	 <input type="checkbox"/>
	8.	 <input type="checkbox"/>
	9.	 <input type="checkbox"/>
	10.	 <input type="checkbox"/>

Reportez ici les 10 lettres correspondant à vos réponses (dans l'ordre):	1	2	3	4	5	6	7	8	9	10