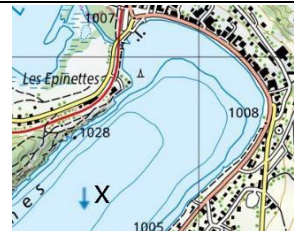


10 Domande di topografia 2022-06

1.	Dove si trova l'est sulla mappa?	A	Bordo sinistro della mappa
		B	Bordo superiore della mappa
		C	Bordo destro della mappa
		D	Bordo inferiore della mappa

2.	In quale direzione azimuth 315°	A	Nord-Est
		B	Sud-Est
		C	Sud-Ovest
		D	Nord-Ovest





3.	Quale delle seguenti coordinate punti non si trova in Svizzera?	A	833 638 / 167 067
		B	500 005 / 150 051
		C	720 500 / 080 200
		D	456 460 / 538 700

4.	 Qual'è la differenza tra la riva del lago e il punto x	A	8
		B	18
		C	28
		D	38

5.	25 km sulla mappa 1:25000 corrispondo a che lunghezza?	A	625 cm
		B	100 cm
		C	62.5 cm
		D	10 cm

6.	Come sono descritto il ceppo di confine di una frontiera cantonale segnato sulla mappa 1:25.000?	A	Croce nera
		B	Punto rosa
		C	Cerchio rosso
		D	Non è segnalato

7.-10. Simboli della nuova carta nazionale 1.25000

Risposte possibili A: Campeggio B: Muro a secco C: Punto di triangolazione D: Rovina E: Monumento F: Ospedale G: Todde dell'acqua H: Eliporto I: Ciminiera J: Campanile della chiesa	7.		<input type="checkbox"/>
	8.		<input type="checkbox"/>
	9.		<input type="checkbox"/>
	10.		<input type="checkbox"/>

Scrivere le soluzioni 1-10 in questa tabella	1	2	3	4	5	6	7	8	9	10