




Start / départ / partenza

A. Starte in deinem GPS das Aufzeichnen der Route.


A. Démarre l'itinéraire dans ton GPS.

Posten / poste 1

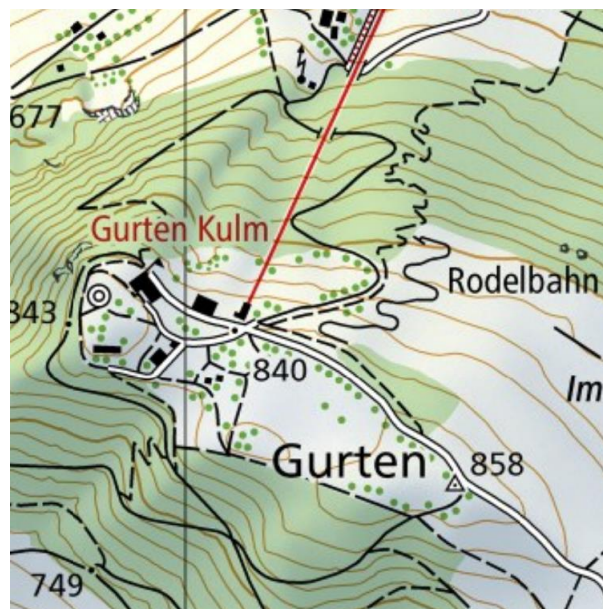
A. Der Gurten liegt einige hundert Meter in nordöstlicher Richtung.
Bestimme Azimut und Distanz zum Triangulationspunkt. 

B. Nenne 6 Signaturen auf dem folgenden Kartenabschnitt.

A. Le Gurten se trouve à quelques centaines de mètres en direction du nord-est.

Détermine l'azimut et la distance au point de triangulation. 

B. Cite 6 symboles sur l'extrait de carte suivant.



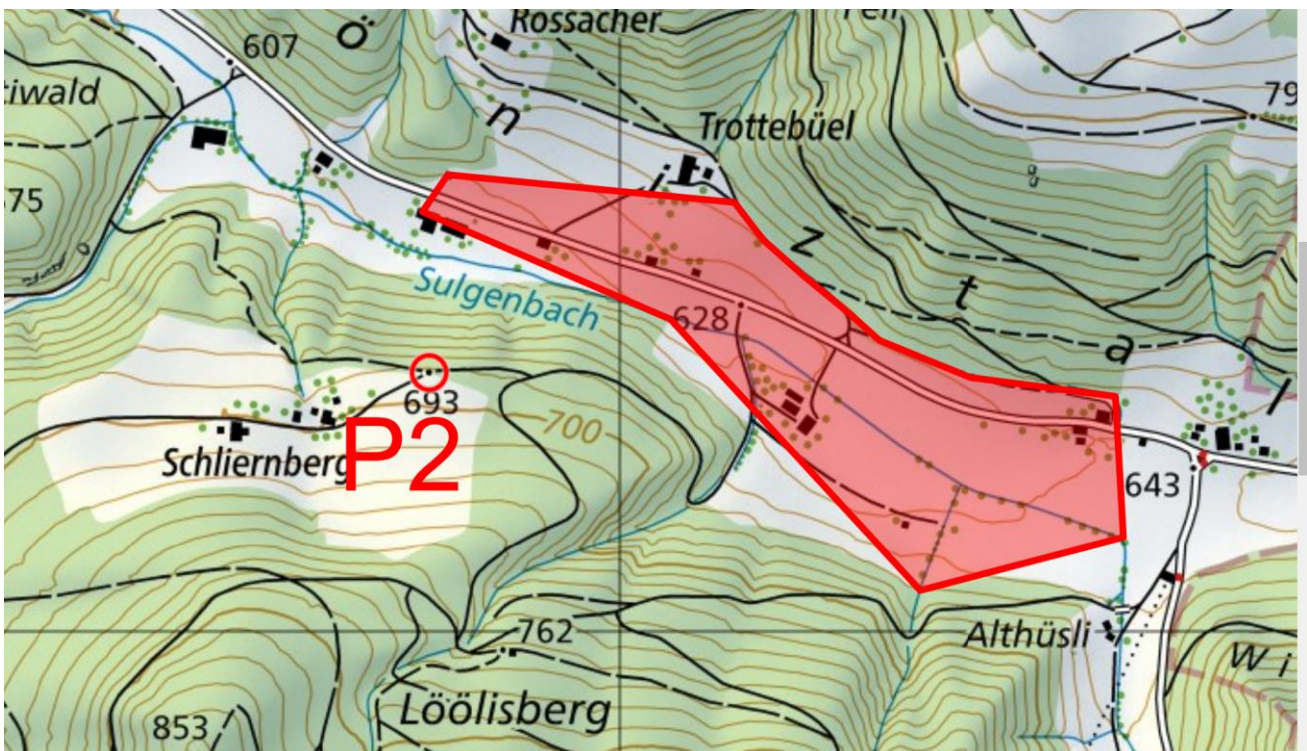
Posten / poste 2

A. Zeichne die AOI ins GPS und benenne es «area2».

B. Bestimme die Flächengrösse des AOI.

A. Dessine l'AOI dans le GPS et nomme-le "area2".

B. Détermine la taille de la surface du AOI.



Posten / poste 3

A. Zeichne die LOI ins GPS und benenne es «trail3».

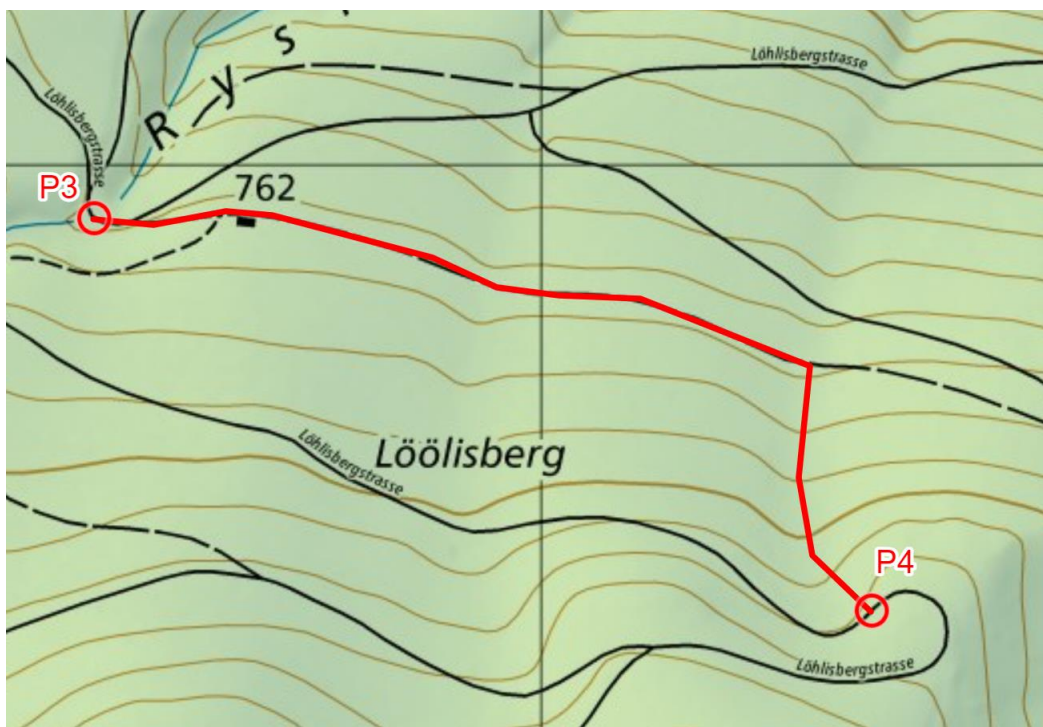
B. Bestimme die Länge der LOI.

C. Gehe genau entlang der LOI zum Posten 4.

A. Dessine la LOI dans le GPS et nomme-la «trail3».

B. Détermine la longueur de la LOI.

C. Marche exactement le long de la LOI jusqu'au poste 4.





Posten / poste 4

A. Posten 5 befindet sich in einer Entfernung von 500m mit Azimut 200° direkt auf einer senkrechten Linie des Koordinatennetzes.

B. Gib den Posten 5 ins GPS ein.

Geh zum Posten 5.

A. Le poste 5 se trouve à une distance de 500 m avec un azimut de 200° directement sur une ligne verticale du réseau de coordonnées.

B. Saisis le poste 5 dans le GPS.

Dirige-toi vers le poste 5.



Posten / poste 5

- A. Du befindest dich genau auf einer senkrechten Linie des Koordinatennetzes. Welcher wichtige Ort für die Orientierung befindet sich 5.7km entfernt genau nördlich von dir?
- B. Gehe zu Posten 6, er liegt auf der ersten Plattform des Sendeturmes mit Sicht gegen Norden.

- A. Tu te trouves exactement sur une ligne verticale du réseau de coordonnées. Quel lieu important pour l'orientation se trouve à 5,7 km, juste au nord de toi?
- B. Dirige-toi vers le poste 6, il se trouve sur la première plate-forme de la tour de transmission avec vue vers le nord.



Posten / poste 6

A. Geniesse die Aussicht und gehe weiter zum Posten 7.

A. Profite de la vue et continue vers le poste 7.



Posten / poste 7

A. Gehe weiter zum Posten 8.

A. Continue vers le poste 8.



Posten / poste 8

Beantworte folgende Fragen zu deiner zurückgelegten Wegstrecke:

- A. In der Nähe welchen Postens bist Du bei einem runden Brunnen vorbei gegangen?
- B. Welches war gemäss den Höhenlinien auf der Karte der tiefste Punkt? Markiere ihn als POI in deinem GPS.
- C. Wie oft hast du die senkrechte Koordinatenlinie bei 600'000 überquert?

Réponds aux questions suivantes concernant le chemin que tu as parcouru:

- A. Près de quel poste as-tu passé près d'une fontaine ronde?
- B. D'après les courbes de niveau sur la carte, quel était le point le plus bas? Marque-le comme POI dans ton GPS.
- C. Combien de fois as-tu traversé la ligne de coordonnées verticale à 600'000?



Ziel / arrivée

Speichere deine Strecke in eine Route und benenne sie mit deinem Nachnamen.

Enregistre ton parcours dans une «Route» et nomme-le avec ton nom de famille.