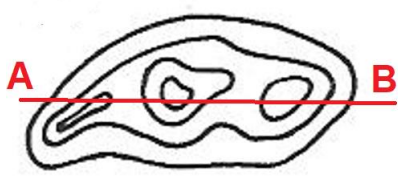
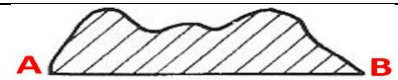





## 10 Fragen zur Orientierung

Serie 2022\_01

Markiere den Buchstaben bei der richtigen Antwort mit einem Kreuz.

1.	Wo auf der Karte ist Osten?	A	linker Kartenrand
		B	rechter Kartenrand
		C	oberer Kartenrand
		D	unterer Kartenrand

2.	Welches Profil passt am besten? 	A	
		B	
		C	
		D	





3.	Welcher Punkt liegt südlich von Bern?	A	700'000 / 200'000
		B	600'000 / 100'000
		C	500'000 / 200'000
		D	600'000 / 300'000

4.	Was bedeutet die Abkürzung GPS?	A	Geographical Pointing Solution
		B	Geodata Printing System
		C	Global Positioning System
		D	General Placing Software

5.	4 km entsprechen auf der Karte 1:25'000 welcher Länge?	A	16 cm
		B	10 cm
		C	8 cm
		D	4 cm

6.	Was ist auf einer Karte 1:25'000 eingezeichnet?	A	Postauto-Haltestellen
		B	Strassensperren
		C	Isobaren
		D	Wetterstationen

7.-10. Signaturen der neuen Landeskarte 1:25'000

Mögliche Antworten A: Brunnen B: Kühlturm C: Hochkamin D: Strommast E: Aussichtsturm F: Höhle G: Bohrloch H: Windturbine I: Kirchturm J: Wasserturm	Notiere den Buchstaben der passenden Bezeichnung zur folgenden Signatur.	
	7.	 <input type="checkbox"/>
	8.	 <input type="checkbox"/>
	9.	 <input type="checkbox"/>
	10.	 <input type="checkbox"/>