
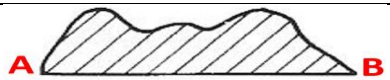





10 questions d'orientation série 2022_01

1.	Où se trouve l'est sur la carte?	A	à gauche de la carte
		B	à droite de la carte
		C	en haut de la carte
		D	en bas de la carte

2.	Quel est le profil le plus adapté ? 	A	
		B	
		C	
		D	





3.	Quel point se trouve au sud de Berne?	A	700'000 / 200'000
		B	600'000 / 100'000
		C	500'000 / 200'000
		D	600'000 / 300'000

4.	Que signifie l'abréviation GPS?	A	Geographical Pointing Solution
		B	Geodata Printing System
		C	Global Positioning System
		D	General Placing Software

5.	A quoi correspondent 4km de distance réelle sur une carte au 1:25'000?	A	16 cm
		B	10 cm
		C	8 cm
		D	4 cm

6.	Qu'est-ce qui est indiqué sur une carte au 1:25'000 ?	A	Arrêts de car postal
		B	Barrières
		C	Isobares
		D	Stations météo

7.-10. Signes conventionnels des nouvelles cartes nationales 1:25'000

réponses possibles		Inscrivez la lettre de la réponse correspondante.	
A: Fontaine	7.  <input type="checkbox"/> 8.  <input type="checkbox"/> 9.  <input type="checkbox"/> 10.  <input type="checkbox"/>		
B: Tour de refroidissement			
C: Cheminée marquante			
D: Antenne émettrice			
E: Tour d'observation			
F: Caverne			
G: Trou de forage			
H: Eolienne			
I: Clocher			
J: Château d'eau			