






Lösungen

Theorie:

Frage	X	Antwort	Punkte
Wo auf der Karte ist Norden?		Unterer Kartenrand	5
		Rechter Kartenrand	
	X	Ooberer Kartenrand	
Wo befindet sich der festgelegte Schnittpunkt des schweizerischen Koordinatennetzes?		Zürich	5
	X	Bern	
		Genf	
Was versteht man unter dem Ausdruck Äquidistanz?		Distanz zwischen zwei Koordinaten	5
	X	Höhendifferenz zwischen zwei Höhenkurven	
		Wassertiefe	
Wie gross ist die Äquidistanz auf der 25 000 Karte?		20m, Alpen 25m	5
	X	10m Alpen 20m	
		20m, Alpen 50m	
Auf wie viel Grad liegt Westen?		180°	5
		90°	
	X	270°	
		Bahntunnel	5
		Skilift	5
		Friedhof	5
		Schiesstand	5
		Offener Wald	5

Mitteilungen an Startende:

- Immer auf dem Weg bleiben sonst Abzug
- OL Stempel
- Zeit 3h15' ok // 3.15 – 3.30 Minus // länger als 3.30 nicht bestanden

Punkteverteilung:

Start			
P1	Azimut zum Start	20-25°	5
	Stempel		5
P2	Posten Nr. 3 eintragen		5
	Stempel		5
P3	Ortschaft	Eschlen	5
	Stempel		5
P4	AOI	einzeichnen	20
	AOI	benannt Nachname	5
	AOI Fläche	111144 m2	5
	Stempel		5
P5	Stempel		5
P6	LOI	einzeichnen	10
	LOI Länge	1.4 km – 1.8 km (1.60 km)	5
	LOI	folgen	10
	Stempel		5
P7	Distanz	152 – 160m (156m)	5
	Stempel		5
P8	Distanz Schlossweier	600 – 610m (600m)	5
	Azimut Schlossweier	356 - 4° (0°)	5
	Stempel		5
P9	9°/ 185 Meter	Wasserreservoir	5
	Stempel		5
P10	Route	gespeichert	10
	Route	benannt Nachname	5
	Stempel		5

Punkte	Postenlauf (155)	Theorieblatt (50)	Koordinaten (40)	Zeit (-2.5pt/min)	Total (245)
---------------	------------------	-------------------	------------------	--------------------------	-------------



Total 245 Pt / 80% = mind. 196 Pt