






# Solutions

Théorie:

Questions	X	Répond	Punkte
Ou se trouve nord sur la carte ?	X	En haut de la carte	5
		En bas de la carte	
		À droite de la carte	
Ou se trouve le point qui sert de base à la mesure de l'altitude en Suisse?		Zürich	5
		Berne	
	X	Genève	
Que signifie le terme «équidistance» en topographie?		La différence entre deux isobares.	5
	X	La différence de hauteur entre les courbes de niveau	
		La largeur d'une rivière	
Quelle est l'équidistance sur la 25 000 carte?		20m, Alpes 25m	5
	X	10m Alpes 20m	
		20m, Alpes 50m	
A quel azimut se trouve l'est ?		180°	5
	X	90°	
		270°	
		<b>Tunnel ferroviaire</b>	5
		<b>Téléski</b>	5
		<b>Cimetière</b>	5
		<b>Stand de tir</b>	5
		<b>Forêt clairsemée</b>	5



**Messages aux participants:**

- Toujours rester sur le chemin sinon déduction
- Pince OL
- Temps 3h15' ok // 3.15 - 3.30 moins 2.5 points par min.// plus de 3.30 pas réussi

**Répartition des points :**

<b>P1</b>	Azimut 20-25° Timbre		5 5
<b>P2</b>	Inscrire le poste n° 3 Timbre		5 5
<b>P3</b>	Localité Eschlen Timbre		5 5
<b>P4</b>	AOI inscrire		20
	AOI nommé Nom de famille		5
	AOI Surface 111144 m2		5
	Timbre		5
<b>P5</b>	Timbre		5
<b>P6</b>	LOI inscrire		10
	LOI Länge 1.4 km – 1.8 km (1.60 km)		5
	LOI suivre		10
	Timbre		5
<b>P7</b>	Distanz 152 – 160m (156m)		5
	Timbre		5
<b>P8</b>	Distanz Schlossweier 600 – 610m (600m)		5
	Azimut Schlossweier 356 - 4° (0°)		5
	Timbre		5
<b>P9</b>	9°/ 185 Meter Réservoir d'eau		5
	Timbre		5
<b>P10</b>	Route enregistré		10
	Route nommé Nom de famille		5
	Timbre		5

Punkte	Course (155)	Théorie (50)	coordonnées(40)	Temps (-2.5pt/min)	Total (245)



Totale 245 Pt / 80% = min. 196 Pt