


## 10 questions d'orientation série 2022\_03

|    |                                   |   |                      |
|----|-----------------------------------|---|----------------------|
| 1. | Où se trouve le sud sur la carte? | A | à gauche de la carte |
|    |                                   | B | à droite de la carte |
|    |                                   | C | en haut de la carte  |
|    |                                   | D | en bas de la carte   |

|    |  |   |     |
|----|--|---|-----|
| 2. | Quelle indication de hauteur devrait figurer dans le rectangle blanc?<br> | A | 634 |
|    |  | B | 782 |
|    |  | C | 815 |
|    |  | D | 924 |





|    |   |   |                   |
|----|---|---|-------------------|
| 3. | La gare centrale de Zurich se trouve à 683'000 / 248'000? Quel point se trouve à 20 km à l'ouest de la gare centrale de Zurich? | A | 703'000 / 248'000 |
|    |   | B | 683'000 / 228'000 |
|    |   | C | 663'000 / 248'000 |
|    |   | D | 683'000 / 268'000 |

|    |   |   |   |
|----|---|---|---|
| 4. | Quelle condition doit être remplie pour qu'un appareil GPS puisse montrer la position ? | A | Connexion à un réseau de téléphonie mobile. |
|    |   | B | On se trouve dans l'hémisphère nord.        |
|    |   | C | Réception d'au moins 4 satellites.          |
|    |   | D | Il faut de la lumière du jour.              |

|    |  |   |         |
|----|--|---|---------|
| 5. | 15 cm sur la carte au 1:25'000 correspondent en réalité à quelle distance? | A | 7.5 km  |
|    |  | B | 6 km    |
|    |  | C | 3.75 km |
|    |  | D | 1.5 km  |

|    |  |   |                |
|----|--|---|----------------|
| 6. | Quelles couleurs peuvent avoir les courbes de niveau ? | A | brun/noir/bleu |
|    |  | B | brun/vert/noir |
|    |  | C | bleu/gris/noir |
|    |  | D | bleu/brun/vert |

## 7.-10. Signes conventionnels des nouvelles cartes nationales 1:25'000

|   |   |   |
|---|---|---|
| réponses possibles<br><br>A: Jardins familiaux<br>B: Forêt<br>C: Place de camping<br>D: Pépinière<br>E: Vignes<br>F: Terrain de golf<br>G: Verger<br>H: Cimetière<br>I: Décharge<br>J: Terrain de sport | Inscrivez la lettre de la réponse correspondante. |   |
|   | 7.  |  <input type="checkbox"/> |
|   | 8.  |  <input type="checkbox"/> |
|   | 9.  |  <input type="checkbox"/> |
|   | 10.   |  <input type="checkbox"/> |