






## 10 domande per l'orientamento 2023 - 3

1.	Dove si trova l'est sulla mappa?	A	sul bordo sinistro della mappa
		B	sul bordo superiore della mappa
		C	sul bordo destro della mappa
		D	sul bordo inferiore della mappa

2.	A quale direzione corrisponde l'azimut di 225°?	A	nord-est
		B	sud-est
		C	sud-ovest
		D	nord-ovest





3.	Ci troviamo approssimativamente nel punto con le coordinate 2'632'800 / 1'210'800. Quali sono le coordinate di un punto esattamente 50 km a nord di questo punto?	A	2'632'800 / 1'210'850
		B	2'632'800 / 1'260'800
		C	2'632'850 / 1'210'800
		D	2'682'800 / 1'210'800

4.		Quale profilo corrisponde al percorso da A a B segnato in rosso?	A	
			B	
			C	
			D	

5.	Sulla carta 1:25.000, 20 km corrispondono a quale lunghezza?	A	50 cm
		B	80 cm
		C	5 cm
		D	8 cm

6.	Di che colore sono le curve di livello sulla mappa nazionale 1:25:000?	A	marrone, blu, nero
		B	verde, blu, marrone
		C	nero, verde, blu
		D	blu, verde, marrone

## 7.-10. Segni convenzionali

Risposte possibili A: Sciovia B: Linea elettrica ad alta tensione C: Ferrovia a scartamento ridotto D: Confine cantonale E: Galleria idraulica F: Barriera di divieto di transito G: Nastro trasportatore H: Confine comunale I: Teleferica K: Galleria ferroviaria	Scrivi la lettera del nome corrispondente alle seguenti simboli	7.		<input type="text"/>
		8.		<input type="text"/>
		9.		<input type="text"/>
		10.		<input type="text"/>