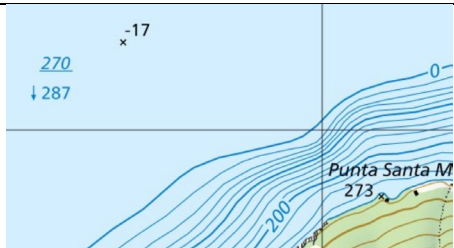


10 Fragen zur Orientierung

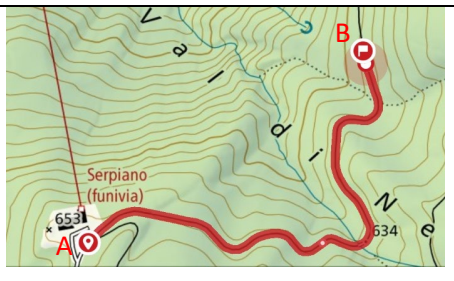




Serie 2024_01

Markiere den Buchstaben bei der richtigen Antwort mit einem Kreuz.

1.	Wo auf der Karte ist Osten?	A	linker Kartenrand
		B	rechter Kartenrand
		C	oberer Kartenrand
		D	unterer Kartenrand





2.		Der Kartenausschnitt zeigt einen Teil des Luganersees. Welche Aussage ist richtig?	
		A	Der See ist an der tiefsten Stelle 270m tief.
		B	Der tiefste Punkt liegt 17m unter dem Meeresspiegel.
		C	Die Oberfläche des Sees liegt bei 287m ü.M.
D	Der See ist 17m tief.		

3.	Welcher Punkt liegt am südlichsten?	A	2'645'127 / 1'136'659
		B	2'553'400 / 1'147'599
		C	2'784'149 / 1'153'550
		D	2'587'400 / 1'148'949

4.		Welches Profil entspricht dem rot eingezeichneten Weg von A nach B?	A	
			B	
			C	
			D	

5.	4 km in Wirklichkeit entsprechen auf der Karte 1:25'000 welcher Länge?	A	16 cm
		B	4 cm
		C	1 cm
		D	10 cm

6.	Welcher Höhenunterschied liegt zwischen zwei Zählkurven?	A	10 m
		B	50 m
		C	100 m
		D	200 m

7. - 10.	Signaturen der neuen Landeskarte 1:25'000	
	Mögliche Antworten:	Notiere den Buchstaben der passenden Bezeichnung zur folgenden Signatur.
	A: Skilift	7.  <input type="text"/>
	B: Hochspannungsleitung	8.  <input type="text"/>
	C: Schmalspurbahn	9.  <input type="text"/>
	D: Kantonsgrenze	10.  <input type="text"/>
	E: Wasserstollen	
	F: Durchfahrtssperre	
	G: Förderband	
	H: Gemeindegrenze	
	I: Luftseilbahn	
	K: Bahntunnel	