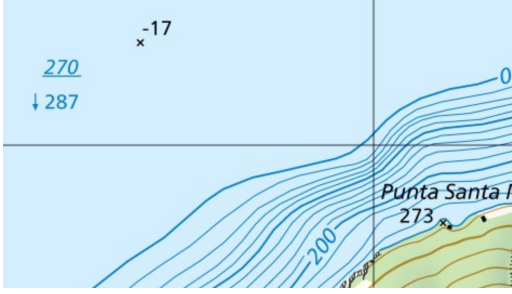



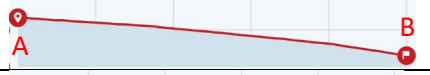



10 questions d'orientation série 2024_01

1.	Où se trouve l'est sur la carte?	A	à gauche de la carte
		B	à droite de la carte
		C	en haut de la carte
		D	en bas de la carte





2.		L'extrait de carte montre une partie du lac de Lugano. Quelle est la phrase correcte ?	
		A	Le lac a une profondeur de 270 m à son point le plus profond.
		B	Le point le plus bas se situe à 17 mètres sous le niveau de la mer.
		C	La surface du lac se situe à 287 m d'altitude.
D	Le lac a une profondeur de 17 mètres.		

3.	Quel est le point le plus au sud?	A	2'645'127 / 1'136'659
		B	2'553'400 / 1'147'599
		C	2'784'149 / 1'153'550
		D	2'587'400 / 1'148'949

4.		Quel profil correspond au trajet de A à B indiqué en rouge ?	A	
			B	
			C	
			D	

5.	4 km en réalité correspondent à quelle longueur sur la carte au 1:25'000 ?	A	16 cm
		B	4 cm
		C	1 cm
		D	10 cm

6.	Quelle est la différence d'altitude entre deux courbes directrice?	A	10 m
		B	50 m
		C	100 m
		D	200 m

7	-10. Signes conventionnels des nouvelles cartes nationales 1:25'000	réponses possibles		Inscrivez la lettre de la réponse correspondante.	
		A: Télési	B: Ligne électrique à haute tension	C: Chemin de fer à voie étroite	D: Limite de canton
		E: galerie hydraulique	F: Barrière	G: Tapis roulant	H: Limite de commune
		I: Téléphérique	K: Tunnel ferroviaire		
7.		<input type="checkbox"/>			
8.		<input type="checkbox"/>			
9.		<input type="checkbox"/>			
10.		<input type="checkbox"/>			