
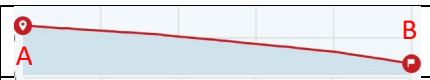

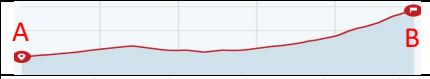



## 10 domande per l'orientamento 2024 - 2

1.	Dove si trova l'ovest sulla mappa?	A	sul bordo sinistro della mappa
		B	sul bordo destro della mappa
		C	sul bordo superiore della mappa
		D	sul bordo inferiore della mappa

2.			Quale numero per l'altezza si trova nel rettangolo?
		A	912
		B	931
		C	676
D	875		





3.	Qual è il punto più a nord?	A	2'645'127 / 1'136'659
		B	2'553'400 / 1'147'599
		C	2'784'149 / 1'153'550
		D	2'587'400 / 1'148'949

4.		Quale profilo corrisponde al percorso da A a B segnato in rosso?	A	
			B	
			C	
			D	

5.	3 km in realtà corrispondono a quale lunghezza sulla carta 1:25.000?	A	16 cm
		B	4 cm
		C	1 cm
		D	12 cm

6.	Qual è la differenza di altezza tra due curve direttrici?	A	10 m
		B	50 m
		C	100 m
		D	200 m

## 7.-10. Segni convenzionali

Risposte possibili A: Sciovia B: Linea elettrica ad alta tensione C: Ferrovia a scartamento ridotto D: Confine cantonale E: Galleria idraulica F: Barriera di divieto di transito G: Nastro trasportatore H: Confine comunale I: Teleferica K: Galleria ferroviaria	Scrivi la lettera del nome corrispondente alle seguenti simboli	7.		<input type="text"/>
		8.		<input type="text"/>
		9.		<input type="text"/>
		10.		<input type="text"/>